

## EJERCICIO 1:

Las funciones

$$I(t) = -2t^2 + 51t \quad , \quad G(t) = t^2 - 3t + 96 \quad (0 \leq t \leq 18)$$

representan, respectivamente, los ingresos y gastos de una empresa, en miles de euros, en función de los años ( $t$ ) transcurridos desde su inicio y en los últimos 18 años.

- [0,5] ¿En qué momentos, desde su entrada en funcionamiento, los ingresos coincidieron con los gastos?
- [0,75] Determine la función que refleje los beneficios en función del tiempo y represéntela gráficamente.
- [0,5] ¿Al cabo de cuántos años, desde su entrada en funcionamiento, los beneficios fueron máximos? Calcule el valor de ese beneficio.
- [0,75] ¿En que período hubo pérdidas?

## EJERCICIO 2:

Dada la función

$$y = x^3 + ax^2 + b$$

- [1,5] Determine los valores de  $a$  y de  $b$  sabiendo que  $(2, 1)$  es un punto de extremo relativo.
- [1] Para  $a = -3$  y  $b = 5$ , estudie su curvatura y obtenga las coordenadas de su punto de inflexión.

## EJERCICIO 3: Dada la función

$$f(x) = \frac{3x + 1}{x - 2}$$

- [0,5] Estudie su continuidad.
- [0,5] Obtenga sus asíntotas.
- [1,5] Calcule la ecuación de la recta tangente a la gráfica de  $f$  para  $x = 3$ .

## EJERCICIO 4:

Para la función definida por

$$f(x) = \begin{cases} a - 2x^2 & \text{si } x \leq 1 \\ \ln x & \text{si } x > 1 \end{cases}$$

- [0,75] Determine  $a$  sabiendo que  $f$  es continua.
- [1] Para  $a = 2$  analice algebraicamente la monotonía de  $f$  e indique dónde presenta extremos relativos.
- [0,75] Para  $a = 2$  dibuje su gráfica.

EJERCICIO 1:

a) Igualamos:

$$I(t) = G(t) \rightarrow -2t^2 + 51t = t^2 - 3t + 96 \rightarrow -3t^2 + 54t - 96 = 0 \rightarrow t = 2, t = 16$$

Ingresos y gastos fueron iguales a los 2 y a los 16 años de haber comenzado.

b) Para hallar los beneficios calculamos los ingresos menos los gastos:

$$B(t) = I(t) - G(t) \rightarrow B(t) = -3t^2 + 54t - 96$$

Su gráfica es una parábola cóncava con vértice en

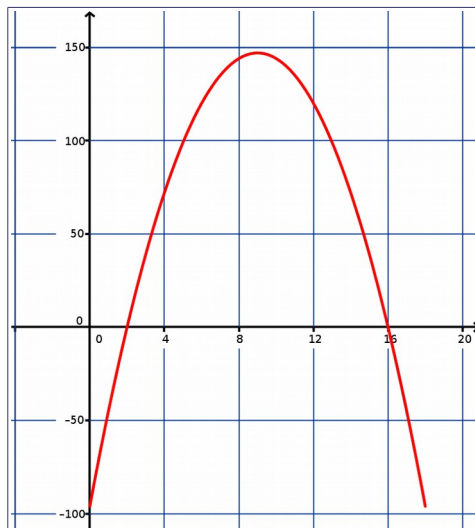
$$t_v = \frac{-b}{2a} = \frac{-54}{-6} = 9$$

Con una tabla de valores adecuada la tenemos a la derecha.

c) Observamos que el máximo absoluto se encuentra en el vértice: se obtuvo una ganancia máxima de 147000 euros a los 9 años del inicio.

d) Hubo pérdidas cuando el beneficio fue negativo: la gráfica está bajo el eje X.

Apreciamos que ello ocurrió desde el inicio hasta los 2 años y desde los 16 hasta los 18 años.



EJERCICIO 2:

a) Obtengamos primero la derivada:

$$y = x^3 + ax^2 + b \rightarrow y' = 3x^2 + 2ax$$

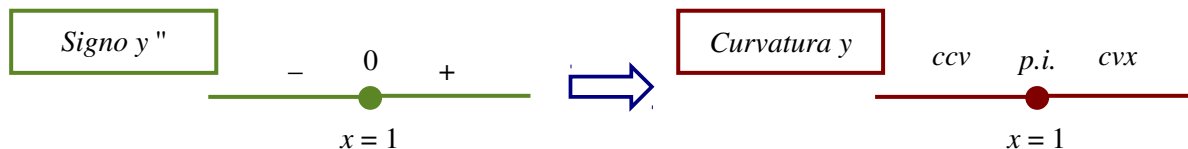
Como tiene un extremo en el punto (2, 1):

$$\left. \begin{array}{l} \text{si } x = 2 \text{ es } y = 1 \rightarrow 8 + 4a + b = 1 \\ \text{si } x = 2 \text{ es } y' = 0 \rightarrow 12 + 4a = 0 \end{array} \right\} \xrightarrow{\text{resolviendo}} a = -3, b = 5$$

b) Hallemos la derivada segunda y estudiemos su signo:

$$y = x^3 - 3x^2 + 5 \rightarrow y' = 3x^2 - 6x \rightarrow y'' = 6x - 6$$

Estudiamos el signo de la derivada segunda y traducimos:



Como pasa de cóncava a convexa hay un punto de inflexión en el punto  $x = 1, y = 3$ .

EJERCICIO 3:

a)  $f$  sólo puede ser discontinua para los ceros del denominador:  $x - 2 = 0 \rightarrow x = 2$ .

$x = 2$

VALOR: si  $x = 2$  es  $y = \left[ \frac{7}{0} \right] =$  no existe

TENDENCIAS:  $\begin{cases} \text{si } x \rightarrow 2_- & \text{es } y \rightarrow \left[ \frac{7}{-0} \right] = -\infty \\ \text{si } x \rightarrow 2_+ & \text{es } y \rightarrow \left[ \frac{7}{+0} \right] = +\infty \end{cases}$

Concluimos que hay una discontinuidad de salto infinito para  $x = 2$ .

b) Asíntotas verticales: Hay discontinuidad de salto infinito para  $x = 2 \rightarrow x = 2$

Asíntotas horizontales: El límite en el infinito es  $\lim_{x \rightarrow \pm\infty} \frac{3x + 1}{x - 2} = \frac{3}{1} = 3$  (grados)  $\rightarrow y = 3$

c) Para hallar la ecuación de la recta tangente derivemos primero:

$$f'(x) = \frac{3(x - 2) - 1(3x + 1)}{(x - 2)^2} = \frac{-7}{(x - 2)^2}$$

La ecuación de la recta tangente para  $x = 3$ :

$$y - f(3) = f'(3)(x - 3) \rightarrow y - 10 = -7(x - 3) \rightarrow y = -7x + 31$$

EJERCICIO 4:

a) Como la función es siempre continua, en particular lo es para  $x = 1$  (separa-fórmulas):

VALOR: si  $x = 1$  es  $y = a - 2$

TENDENCIAS:  $\begin{cases} \text{si } x \rightarrow 1_- & \text{es } y = 2 - x^2 \rightarrow a - 2 \\ \text{si } x \rightarrow 1_+ & \text{es } y = \ln x \rightarrow 0 \end{cases}$

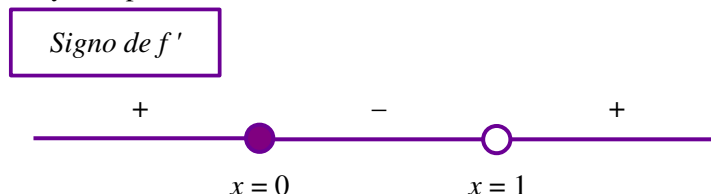
Para que es continua, deben ser iguales:

$$a - 2 = 0 \rightarrow a = 2$$

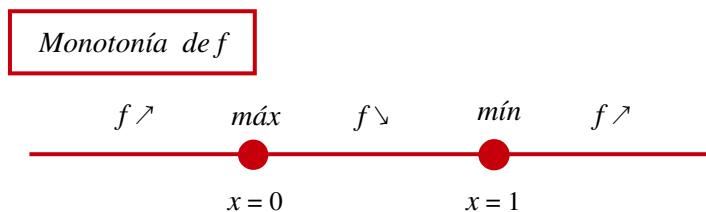
b) Colocamos ya  $a = 2$ . Podemos derivar directamente:

$$f(x) = \begin{cases} 2 - 2x^2 & \text{si } x \leq 1 \\ \ln x & \text{si } x > 1 \end{cases} \rightarrow f'(x) = \begin{cases} -2x & \text{si } x < 1 \\ \frac{1}{x} & \text{si } x > 1 \end{cases}$$

Estudiamos el signo de la derivada primera. Son puntos especiales  $x = 0$ , que es un cero pues  $-2x = 0 \rightarrow x = 0$ , y el separa-fórmulas:



De ahí sacamos la variación. En los cambios de monotonía aparecen los extremos relativos:



- c) La forman un trozo de parábola ( $y = 2 - 2x^2, x \leq 0$ ) + un trozo de curva ( $y = \ln x, x > 0$ ). El vértice de la parábola lo encontramos para  $x_v = \frac{-b}{2a} = \frac{0}{-4} = 0$ .

Con unas tablas de valores adecuada obtenemos:

